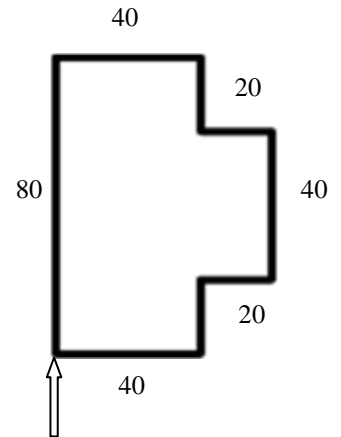


1. Dopuni naredbe za crtanje lika na slici, ako kornjača kreće sa označenog mjesta!

FD 80 RT 90 FD 40 RT 90 FD 20 LT 90


\_\_\_ \_\_\_ \_\_\_ \_\_\_ \_\_\_ \_\_\_ \_\_\_ \_\_\_ FD 20 LT 90

FD 20 \_\_\_ \_\_\_ \_\_\_ \_\_\_ RT 90




2. Ispiši **naredbe** kojim bi kornjača iscrtala crte na slici!

(dvije crte duljine 40, a razmaknute za 20) Kornjača kreće sa označenog mjesta (okreće se u desno, diže pero, ide naprijed za 20, spušta pero,...)



3. Nadopuni **naredbu** za crtanje pravokutnika, stranica **duljine 20 i 40!**

REPEAT \_\_\_ [ FD \_\_\_ RT \_\_\_ FD \_\_\_ RT \_\_\_ ]



3.a Nadopuni **naredbu** za crtanje kvadrata, stranica **duljine 40!**

REPEAT \_\_\_ [ FD \_\_\_ \_\_\_ 90 ]

3.b Nadopuni **naredbu** za crtanje trokuta, stranica **duljine 80!**

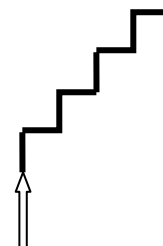
REPEAT \_\_\_ [ \_\_\_ 80 RT \_\_\_ ]

3.c Nadopuni **naredbu** za crtanje šesterokuta, stranica **duljine 30!**

REPEAT \_\_\_ [ FD \_\_\_ RT \_\_\_ ]

3.d Nadopuni **naredbu** za crtanje skala, podnica **duljine 20!**

REPEAT \_\_\_ [ FD \_\_\_ \_\_\_ 90 FD \_\_\_ \_\_\_ 90 ]



4. Ispiši **program** za crtanje kvadrata veličine **stranice 120!**

4. a Ispiši **program** za crtanje šesterokuta veličine **stranice 100!**

4. b Ispiši **program** za crtanje trokuta veličine **stranice 80!**

4. c Ispiši **program** za crtanje pravokutnika veličine **stranica 40 i 20!**