

SRIJEDA,13.5.2020.

Dobro jutro!

Stigli smo do srijede, sredine radnog tjedna. Danas nas čeka puno zanimljivih zadataka .Nadam se da ste dobro doručkovali, pa da imate energije za nove zadatke. Po rasporedu imamo: MAT, HJ, PID / TZK .

## MATEMATIKA

Zbrajanje ( 17 + 2 ) – ponavljanje

Matematička mreža1 radna bilježnica str.83.i84.





Promotri:

$3 + 6 = 9$	$4 + 3 = 7$	$2 + 3 = 5$	$6 + 2 = 8$
$13 + 6 = 19$	$14 + 3 = 17$	$12 + 3 = 15$	$16 + 2 = 18$

Riješi zadatke u radnoj bilježnici na 83. i 84. stranici.

ZBRAJANJE BROJEVA (17 + 2)

1. Dopuni i izračunaj.

 $12 + 4 = \square$	 $14 + 5 = \square$
 $11 + 3 = \square$	 $2 + 13 = \square$

2. Zbroji!

$3 + 5 = \square$	$4 + 1 = \square$	$6 + 4 = \square$	$4 + 6 = \square$
$13 + 5 = \square$	$14 + 1 = \square$	$16 + 4 = \square$	$14 + 6 = \square$
$5 + 13 = \square$	$1 + 14 = \square$	$4 + 16 = \square$	$6 + 14 = \square$

83

3. Zbroji!

$12 + 6 = \square$	$7 + 11 = \square$	$\square + 12 = 16$	$16 + 3 = \square$
$2 + 15 = \square$	$3 + \square = 18$	$4 + 13 = \square$	$14 + 4 = \square$
$10 + \square = 16$	$5 + 15 = \square$	$10 + 9 = \square$	$\square + 5 = 17$

4. Zbroji i usporedi. Stavi znak <, > ili =.

$3 + 14$	$16 + 0$	$11 + 2$	$3 + 12$	$13 + 3$	$4 + 14$
$12 + 7$	$17 + 2$	$6 + 14$	$15 + 3$	$8 + 11$	$16 + 3$




5. Lovro je pojeo 13 trešanja. Mića je pojeo 6 trešanja više nego Lovro. Koliko je trešanja pojeo Mića?

NACRTAJ:

IZRAČUNAJ: \_\_\_\_\_

ODGOVOR: Mića je pojeo \_\_\_\_\_ trešanja.

6. Napiši i riješi računsku priču prema ilustracijama.

		
---	--	---

IZRAČUNAJ: \_\_\_\_\_

ODGOVOR: \_\_\_\_\_

84

Za one koji žele više.

Otvori [ZABAVNI KUTAK](#).

## HRVATSKI JEZIK

*DUBRAVKO HORVATIĆ, DORUČAK*

Pčelica1 početnica str.90. i 91.

Što je to doručak? U koje doba dana jedemo doručak? Što si danas pojeo za doručak?

Poslušaj pjesmu *Doručak*

<https://www.e-sfera.hr/prelistaj-udzbenik/3b40b693-979f-48c5-9b4b-1cc05115c668>

### DORUČAK

Znate li što jede prepelica jutrom:  
salamu, pekmez ili kruh s putrom?  
A možda to ne voli, možda su joj mili mravi  
i drugi kukci što žive u travi.

A znate li vi što doručkuje automobil?  
Što je jutros jeo onaj auto koji na zavoju cvili?  
Sigurno ništa, pa mu je trbuh gladan i prazan.  
Bit će da je zakasnio na benzinski kazan.

A što doručkuje Jadrankin tata?  
Njemu je glavno jelo uvijek – salata.  
Zato je tako visok i tako velik,  
gotovo kao kuća pa ga se čak boji i onaj psić Žuća.

Dubravko Horvatić

---

U početnici, na 90. stranici pročitaj pjesmu *Doručak*. Uzmi olovku i podcrtaj nepoznate riječi. Njihovo objašnjenje nalazi se ispod pjesme.

Usmeno odgovori na pitanja:

Što doručkuje prepelica?

Zašto automobil cvili?

Zašto je doručak važan?


Zapiši u pisanku:

DUBRAVKO HORVATIĆ:  
DORUČAK

DORUČAK JE OBAVEZAN I ZDRAV.

Pronađi u pjesmi i glasno pročitaj jednu izjavnu i jednu upitnu rečenicu. Zapiši i rečenice u pisanku . Nauči jednu kiticu pjesme lijepo izražajno čitati.

U ZABAVNOM KUTKU riješi križaljku.



<https://www.e-sfera.hr/dodatni-digitalni-sadrzaji/5f1a2169-787e-4756-82b7-5a91d7cf24c3/>

**PROČITAJ SAVJETE NAŠE PČELICE MUDRICE.**

Na poveznici ispod otvori rubriku PČELICA MUDRICA.

<https://www.e-sfera.hr/dodatni-digitalni-sadrzaji/5f1a2169-787e-4756-82b7-5a91d7cf24c3/>

NADAM SE DA JE I TVOJ DANAŠNJI DORUČAK BIO ISPUNJEN ZDRAVIM NAMIRNICAMA.

DR:OSMISLI UKUSAN ZDRAV DORUČAK. NACRTAJ GA ILI ZAPIŠI U SVOJU PISANKU.

**PRIRODA I DRUŠTVO / TJELESNA I ZDRAVSTVENA KULTURA**

**PRAVILNA PREHRANA I TJELOVJEŽBA**

Eureka1 udžbenik str 116.i117.

Dan počinjemo s vježbanjem. U EURECI + naći ćeš slike s vježbama.

<https://www.e-sfera.hr/dodatni-digitalni-sadrzaji/ff297586-7302-4b64-9420-94435f3f291c/>

Otvori udžbenik na 116. stranici i pogledaj sliku dnevnih obroka. Dobro pogledaj sliku hrane i doba dana. Riješi zadatak ispod slike.



Na ilustraciji zaokruži namirnice koje su bile dio tvojih jučerašnjih obroka.

Usmeno riješi 1. zadatak.

1.

Navedi obroke tijekom dana.

Pogledaj PIRAMIDU PRAVILNE PREHRANE.



Gledaj sliku i usmeno odgovori na pitanja:

Što treba biti najviše zastupljeno u našoj prehrani? ( Gledaj odozdo prema gore.)

Čega još treba biti dosta u našim obrocima? ( Voća i povrća.)

Što trebamo jesti najmanje tijekom dana? ( Gledaj vrh piramide.)

ZAPAMTI:

HRANOM DOBIVAMO ENERGIJU ZA UČENJE, TRČANJE, IGRU, KRETANJE, itd.

RAZNOLIKU HRANU TREBAMO RASPOREDITI U 5 OBROKA DNEVNO.

Riješi zadatak na 117.stranici udžbenika.

DR: Riješi radnu bilježnicu 96. stranicu.

