

PONEDJELJAK, 11.5.2020.

Dobro jutro!

Evo nas na početku novog radnog tjedna. Nadam se da ste se lijepo odmorili preko vikenda i da ste spremni za rad. Jučer ste svi svojim dragim majkama poželjeli sretan Majčin dan, čestitke su vam bile veoma lijepe, mame su sigurno veoma ponosne na vas. Ja jesam, veoma sam ponosna na moje prvaše.

Danas po rasporedu imamo: SR/HJ, MAT,GK I TZK

Krenimo na posao:

SAT RAZREDNIKA/HRVATSKI JEZIK

Za početak ,recite mi, treba li pomagati drugima? Ispričajte: Kako možete pomoći drugima? Jeste li nekome nekad nešto pomogli? Što? Kada?

Kako se osjećaš kad nekome pomogneš?

Pogledajte crtani film Zlatka Grgića: *Profesor Baltazar – Hanibalove Alpe*.

<https://www.youtube.com/watch?v=9QNah2BpgP0>

:Z.Grgić: Profesor Baltazar – Hanibalove Alpe, crtani film,

Pčelica 1

Otkrij što se nalazi na [slici](#).

Tko su likovi u ovom filmu?

Kamo je otputovao profesor Baltazar?

Koga susreće na svom putu?

Kako im je Baltazar pomogao?

Čemu nas je film poučio?

Film nas je poučio da **uvijek treba pomagati drugima.**

Kako je nastao film koji si pogledao/pogledala?

Film je nastao pokretanjem sličica i zato je to **CRTANI FILM.**

ZADATAK: U pisanku prepisi [plan ploče](#). Nacrtaj svoj čudnovati stroj i dovrši rečenicu s plana ploče.

MATEMATIKA,

Zbrajanje ($17 + 2$) – spoznaja

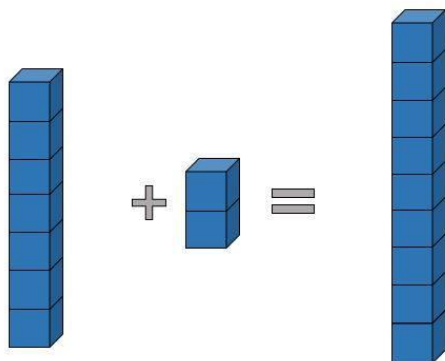
Matematička mreža 1 udžbenik, 102. i 103. stranica

Otvorite vaše udžbenike na str.102.Promotrite. Što rade Ela i Marko?



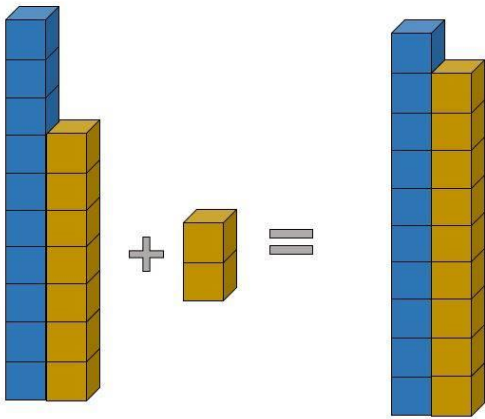
$$7 + 2 = 9 \quad 17 + 2 = 19$$

Koliko kockica je Marko složio u toranj? Koliko još želi dodati kockica?



$$7 + 2 = 9$$

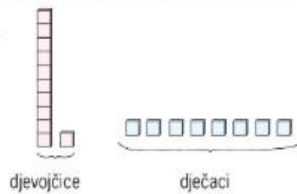
Koliko je kockica Rita složila u toranj? Koliko još kockica želi dodati?



$$17 + 2 = 19$$

Pročitajte sljedeći zadatak.

U Elinu je razredu 11 djevojčica i 8 dječaka.
Koliko je učenika u Elinu razredu?

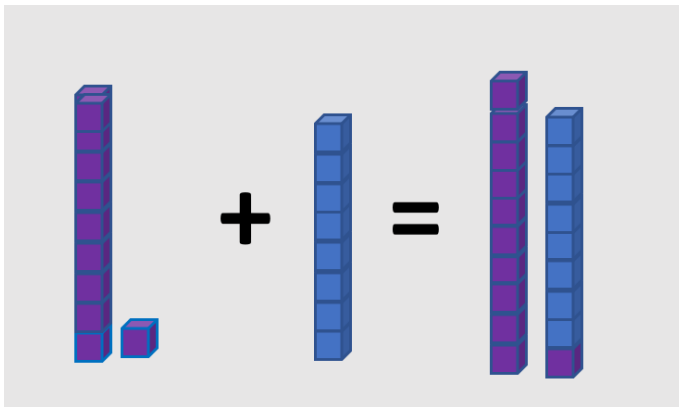


$$11 + 8 = \square$$

U Elinu je razredu ____ učenika.

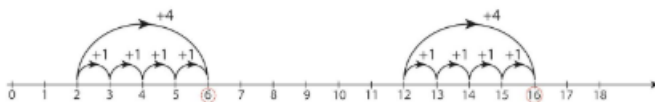
Ispuni.

Promotrite!



$$11 + 8 = 19$$

1. Koliki je zbroj ako je prvi pribrojnik 2, a drugi 4?
Koliki je zbroj ako je prvi pribrojnik 12, a drugi pribrojnik 4?



RAČUNAJ: $2 + 4 = \square$

ODGOVORI: Zbroj je ____.

RAČUNAJ: $12 + 4 = \square$

ODGOVORI: Zbroj je ____.

Riješi 1. zadatak služeći se brojevnim crtama u udžbeniku.

U svojoj bilježnici zapiši i izračunaj zadatke:

Zbrajanje (17 + 2)

$3 + 5 =$	$13 + 5 =$
$4 + 3 =$	$4 + 13 =$
$1 + 8 =$	$11 + 8 =$
$2 + 2 =$	$2 + 12 =$

DR: Pokušaj samostalno riješiti zadatke u udžbeniku na 103. stranici.

GLAZBENA KULTURA

Mojoj mami - pjevanje

Razigrani zvuci 1 str.46.i 47.

Nastavi rečenicu na glas: Moja mama je

Danas učimo pjesmu posvećenu mamama. Pjesma se zove Mojoj mami

<https://www.e-sfera.hr/dodatni-digitalni-sadrzaji/50d3b49d-d33d-48e1-bd49-f2f1b405e685/>



Jesu li vam mame pjevale uspavanke?

Poslušajte sada njemačku tradicijsku uspavanku Ding dong. Izvodi je pjevačica uz pratnju harfe.

<https://www.e-sfera.hr/dodatni-digitalni-sadrzaji/50d3b49d-d33d-48e1-bd49-f2f1b405e685/>

Kojom dinamikom se izvode uspavanke – TIHO ili GLASNO?

Kojim tempom se izvode uspavanke – BRZO ili SPORO?

-Za kraj otpjevajte još jednom pjesmu Mojoj mami mijenjajući dinamiku izvođenja – neke dijelove tiše, a neke glasnije.

TJELESNA I ZDRAVSTVENA KULTURA

NAPRAVI KAKO JE ZADANO:

STOJI NA DESNOJ NOZI KAO RODA I BROJI DO 6

NAPRAVO 10 SITNIH MIŠJIH KORAKA

OKRENI SE 4 PUTA U LIJEVU STRANU

HODAJ NA PRSTIMA, PODIGNI RUKE U ZRAK I LOVI ZVIJEZDE DOK BROJIŠ DO 10

LEZI I ZAROLAJ SE KAO PALAČINKA 5 PUTA

KREĆI SE KAO ZMIJA DOK BROJIŠ DO 10

ČUČNI I U ČUČNJU HODAJ 9 KORAKA